


- Devoir maths: faire les exercices du livre de maths
tome 2 pages 22-23

Corrigé du devoir pages 20-21 de la semaine passée

Leçon 40
De trente à soixante-neuf

Olivier a cueilli des fleurs des champs.
Il en a fait des bouquets de dix.
Voici ce qu'il obtient.

Chaque bouquet contient
une dizaine de fleurs.



Combien de fleurs a-t-il cueillies ?
Il a cueilli fleurs.

Chiffre des dizaines	Chiffre des unités
<u> 5 </u>	<u> 0 </u>

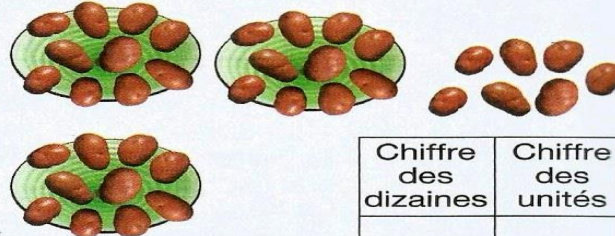
1- Combien y a-t-il de balles ?



Chiffre des dizaines	Chiffre des unités
<u> 4 </u>	<u> 8 </u>

Il y a balles.


2- Combien y a-t-il de pommes de terre



Chiffre des dizaines	Chiffre des unités
<u> 3 </u>	<u> 7 </u>

Il y a pommes de terre.

3- Combien y a-t-il de brosses à dents ?



Chiffre des dizaines	Chiffre des unités
<u>6</u>	<u>3</u>

Il y a 63 brosses à dents.

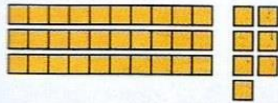
4- Complète les équations.

$30 + 2 = 32$ $40 + 5 = 45$ $30 + 6 = 36$ $7 + 60 = 67$


$50 + 7 = 57$ $60 + 9 = 69$ $50 + 3 = 53$ $6 + 40 = 46$

$60 + 4 = 64$ $50 + 8 = 58$ $40 + 2 = 42$ $9 + 50 = 59$


5- Ecris les nombres.




37




46




55



38




43



67



69



32

6- Ecris en chiffres les nombres suivants.

trente-sept : 37

cinquante et un : 51

trente-cinq : 35

quarante-neuf : 49

trente-quatre : 34

soixante et un : 61

soixante-deux : 62

quarante-six : 46

quarante-quatre : 44

cinquante-huit : 58

soixante-neuf : 69

cinquante-trois : 53

7- Ecris en chiffres, puis en lettres, les nombres suivants.

4 d et 6 u → 46 Quarante-six

3 d et 7 u → 37 Trente-sept

5 d et 9 u → 59 Cinquante-neuf

6 d et 5 u → 65 Soixante-cinq

8- Décompose en dizaines et unités.

39 → 3 d et 9 u

68 → 6 d et 8 u

54 → 5 d et 4 u

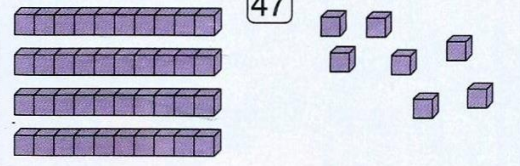
47 → 4 d et 7 u

32 → 3 d et 2 u

45 → 4 d et 5 u

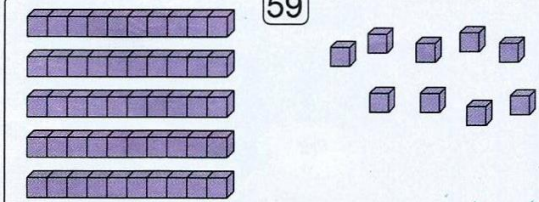
9- Complète les familles d'écritures.

47



$40 + 7 = 47$ $47 - 7 = 40$
 $7 + 40 = 47$ $47 - 40 = 7$

59



$50 + 9 = 59$ $59 - 9 = 50$
 $9 + 50 = 59$ $59 - 50 = 9$

10- Amer a 4 dizaines de photos dans sa collection. Il en prend 8 autres.

Combien de photos aura-t-il alors ?

Equation : $40 + 8 = 48$

Réponse : Il aura alors 48 photos

11- Il y a 60 moutons et 7 vaches dans la ferme.

Combien d'animaux y a-t-il dans la ferme ?

Equation : $60 + 7 = 67$

Réponse : Il y a 67 animaux